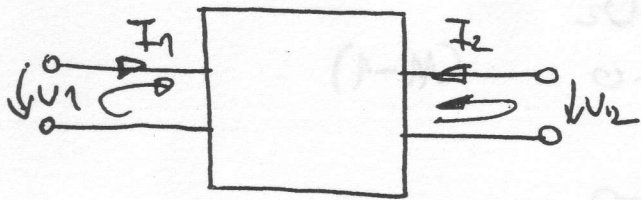


11. lineárne a lineárnizovateľné dvojbrány (štvorcipy).



obr. 140

Dvojbránou nazývame každú takú uzavretú a ľubovoľne zloženú sústavu elektrických obvodov, ktorá sa k vonkajším zdrojom alebo ďalším obvodom pripája dvoma svorkami (brnami). Schematicky budeme dvojbrány znázorňovať podľa obr. 140.

Tu predpokladáme, že chidlomá svorkami

veľký význam pri spájani dvojbrán. Unútorná štruktúra dvojbrán môže byť ľubovoľná. Podľa parity unútorných členov, delíme dvojbrány na:

- 1. Dvojbrány pasívne, zložené z rezistorov, kapacitorov, induktorov a transformátorov.
- 1. Dvojbrány neautonómne, ktoré okrem pasívnych členov môžu obsahovať aj všetky riadené zdroje (t.j. tranzistory, operačné zosilňovače).
- 1. Dvojbrány autonómne, ktoré okrem pasívnych členov a riadených zdrojov obsahujú tiež nezávislé zdroje elektrickej energie.

historickom vývoji teórie dvojbrán bolo definovaných veľmi mnoho charakteristik, ktoré istým spôsobom popisujú chovanie sa dvojbrán, pričom je tiež nutné definovať vlastnosti vonkajších obvodov, ktoré sú k dvojbránam pripojené. Upodstatnené možno tieto charakteristiky dvojbrán rozdeliť do dvoch skupín na:

- 1. maticové charakteristiky dvojbrán
- 1. prenosové charakteristiky dvojbrán

nemendujeme, že medzi týmito charakteristikami existujú úzke vzájomné vzťahy.

1. maticové charakteristiky dvojbrán

Zaujme neautonómnu dvojbránu podľa obr. 140, ktorej okrem 2 vonkajších obvodov ešte $(n-2)$ unútorných nezávislých obvodov. Vzhľadom na to, že uzavretá brána je neautonómna, t.j. táto dvojbrána nemá nezávislé zdroje elektrickej energie, je možné ju opísať metódou slučkových prúdov pomocou tejto formy lineárnych algebraických rovníc:

$$a_{11}I_1 + a_{12}I_2 + a_{13}I_3 + \dots + a_{1n}I_n = U_1$$

$$a_{21}I_1 + a_{22}I_2 + a_{23}I_3 + \dots + a_{2n}I_n = U_2$$

$$a_{31}I_1 + a_{32}I_2 + a_{33}I_3 + \dots + a_{3n}I_n = 0$$

⋮

$$a_{m1}I_1 + a_{m2}I_2 + a_{m3}I_3 + \dots + a_{mn}I_n = 0$$

(11-1)

Nychádzajúc z rovníc (11-1), možno pri použití metódy algebraických doplnkov, napísať pre U_1, U_2, I_1 a I_2 tieto vzťahy:

$$I_1 = \frac{A_{11}}{A} U_1 + \frac{A_{21}}{A} U_2$$

(11-2)

$$I_2 = \frac{A_{12}}{A} U_1 + \frac{A_{22}}{A} U_2$$

kde $A_{11} = \Delta_{1:1}$ $A_{12} = \Delta_{1:2}$ $\Delta_{2:1} = A_{21}$ $A_{22} = \Delta_{2:2}$ $A = \Delta$

(11-3)

prícom koeficienty pri U_1 a U_2 majú rozmery admitancie. Preto rovnice (11-2) nazývame admitančnými rovnicami. Formálne ich možno zapísať v tvare

$$I = YU \quad (11-4)$$

kde

$$I = \begin{bmatrix} I_1 \\ I_2 \end{bmatrix} \quad U = \begin{bmatrix} U_1 \\ U_2 \end{bmatrix} \quad Y = \begin{bmatrix} y_{11} & y_{12} \\ y_{21} & y_{22} \end{bmatrix} = \begin{bmatrix} A_{11}/A & A_{21}/A \\ A_{12}/A & A_{22}/A \end{bmatrix} \quad (11-5)$$

prícom matica Y nazývame admitančnou maticou dvojbrndy. Rovnicu (11-4) možno pomocou $Z = Y^{-1}$ prepísať do tejto formy:

$$\begin{bmatrix} U_1 \\ U_2 \end{bmatrix} = Y^{-1} \begin{bmatrix} I_1 \\ I_2 \end{bmatrix} = Z \begin{bmatrix} I_1 \\ I_2 \end{bmatrix} = \begin{bmatrix} z_{11} & z_{12} \\ z_{21} & z_{22} \end{bmatrix} \quad (11-6)$$

kde Z je tzv. impedančná matica dvojbrndy, prícom rovnice (11-6) nazývame ako impedančné rovnice dvojbrndy.

U tejto obvodu, sú okrem týchto charakteristík dvojbrndy, používaní i nasledujúce maticové formy opisu dvojbrndy:

Impedanční rovnice:

$$\begin{bmatrix} U_1 \\ U_2 \end{bmatrix} = Z \begin{bmatrix} I_1 \\ I_2 \end{bmatrix}$$

Admitanční rovnice:

$$\begin{bmatrix} I_1 \\ I_2 \end{bmatrix} = Y \begin{bmatrix} U_1 \\ U_2 \end{bmatrix}$$

Kaskádne rovnice

$$\begin{bmatrix} U_1 \\ I_1 \end{bmatrix} = A \begin{bmatrix} U_2 \\ -I_2 \end{bmatrix}$$

Spätne kaskádne r.

$$\begin{bmatrix} U_2 \\ I_2 \end{bmatrix} = B \begin{bmatrix} U_1 \\ -I_1 \end{bmatrix}$$

Sério-parallelne
r.

$$\begin{bmatrix} U_1 \\ I_2 \end{bmatrix} = H' \begin{bmatrix} U_2 \\ I_1 \end{bmatrix}$$

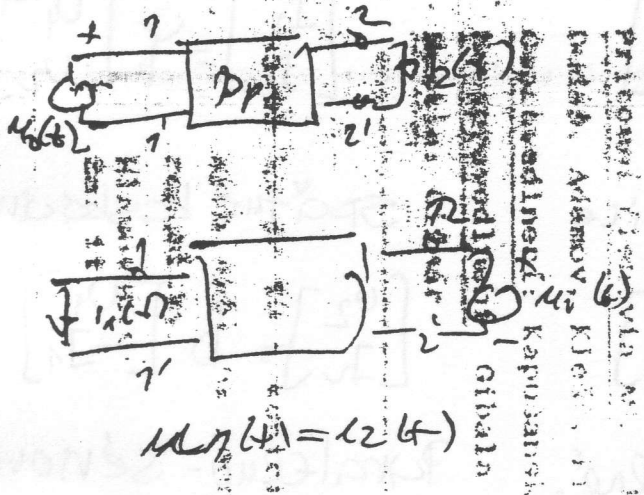
Parallelno-sériove r.

$$\begin{bmatrix} U_2 \\ I_1 \end{bmatrix} = K \begin{bmatrix} U_1 \\ I_2 \end{bmatrix}$$

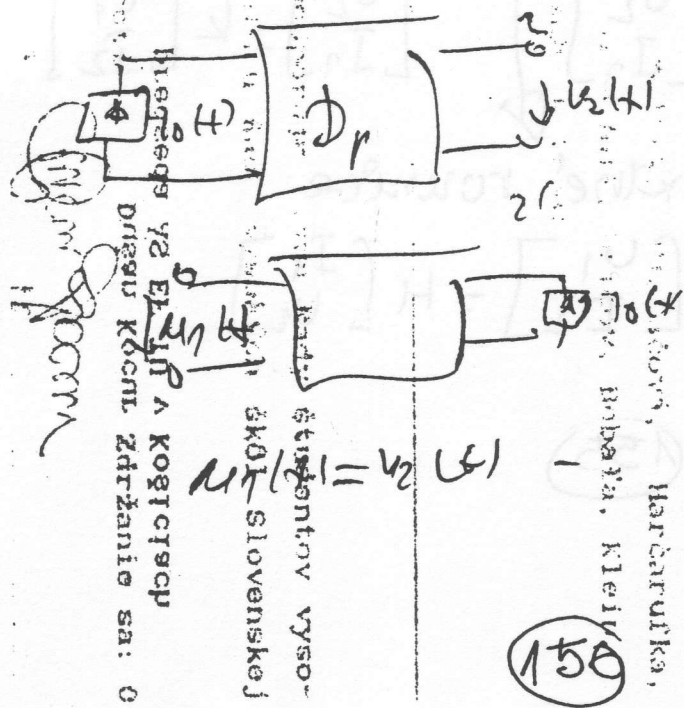
Hybridne rovnice

$$\begin{bmatrix} U_1 \\ I_2 \end{bmatrix} = H \begin{bmatrix} I_1 \\ U_2 \end{bmatrix}$$

Pozncilky k principu reciprocity:



$u_2(t) = u_1(t)$



$u_1(t) = u_2(t)$

Príklad: ...

Príklad: ...
 Druhá časť ...
 Druhá časť ...
 Druhá časť ...
 Druhá časť ...

a) kaskádne rovnice:
$$\begin{bmatrix} U_1 \\ I_1 \end{bmatrix} = \begin{bmatrix} a_{11} & a_{12} \\ a_{21} & a_{22} \end{bmatrix} \begin{bmatrix} U_2 \\ -I_2 \end{bmatrix} = A \begin{bmatrix} U_2 \\ -I_2 \end{bmatrix} \quad (11-7)$$

A - kaskádna matica dvojbrdny.

b) Spätné kaskádne rovnice
$$\begin{bmatrix} U_2 \\ I_2 \end{bmatrix} = \begin{bmatrix} b_{11} & b_{12} \\ b_{21} & b_{22} \end{bmatrix} \begin{bmatrix} U_1 \\ -I_1 \end{bmatrix} = B \begin{bmatrix} U_1 \\ -I_1 \end{bmatrix} \quad (11-8)$$

B - spätná kaskádna matica dvojbrdny

c) sério-paralelné rovnice (hybridné)
$$\begin{bmatrix} U_1 \\ I_2 \end{bmatrix} = \begin{bmatrix} h_{11} & h_{12} \\ h_{21} & h_{22} \end{bmatrix} \begin{bmatrix} U_2 \\ I_1 \end{bmatrix} = H \begin{bmatrix} U_2 \\ I_1 \end{bmatrix} \quad (11-9)$$

d) Paralelno-sériové rovnice
$$\begin{bmatrix} U_2 \\ -I_1 \end{bmatrix} = \begin{bmatrix} k_{11} & k_{12} \\ k_{21} & k_{22} \end{bmatrix} \begin{bmatrix} U_1 \\ I_2 \end{bmatrix} = K \begin{bmatrix} U_1 \\ I_2 \end{bmatrix} \quad (11-10)$$

paralelno-sériová matica dvojbrdny.

$$\begin{bmatrix} U_1 \\ I_2 \end{bmatrix} \quad \begin{bmatrix} I_1 \\ U_2 \end{bmatrix}$$

Všetchny z uvedených rovnic dvojbrdny vyjadruje vlastnosti dvojbrdny jednoznačne. Avšak ani jedna z nich nie je tak univerzálna, aby mohla vo všetkých praktických prípadoch použitia nahradiť ostatné. Pri výpočtoch stáhneme vždy tu najvhodnejšiu. Pre rýchly výpočet matice požadovného typu z matice iného typu, možno použiť prevodové vzťahy ktoré sú obyčajne uvedené v tabuľkách v odbornej literatúre.

Ak sústava rovníc (11-1) prísluša dvojbrdny, ktorá je zostavená iba pasívnymi prvky, jej determinanta - matica je vzhľadom k hlavnej diagonále symetrická. Toto tvrdenie vyplýva z teóremy reciprocity, ktorá platí pre každú lineárnu sústavu, ktorá neobsahuje tzv. zdvísle zdroje.

Teórem reciprocity možno formulovať takto: Ideálny zdroj unitorio nezdvísleho napätia U_{un} pôsobiaci v m -tom obvode pasívnej lineárnej sústavy, spôsobí v q -tom obvode rovnaký prúd, ak spôsobí v m -tom obvode ten istý zdroj prenesený do q -teho obvodu.

Vychádzajúc z tejto vlastnosti impedančnej a admitančnej matice sústavy, platí:

$$A_{21} = A_{12}$$

Pokračov:
(11-11)

teda pre parametre impedančnej a admitančnej matice dvojbrdny

platí:
$$y_{12} = y_{21}$$

$$z_{21} = z_{12}$$

(11-12)

$Z_{12} = Z_{21}$ $Y_{12} = Y_{21}$

Ďalej, vychádzajúc z prevodových vzťahov medzi prúdami matice Z, Y, A, B, H, K zistujeme, že podmienka reciprocity sa do vlastností prvkov týchto matic prejavuje takto:

$Z_{11} = Z_{22}$ $H_{11} = H_{22}$ $K_{11} = K_{22}$ $\det A = 1$ $\det B = A$ (11-13)
 ~~$Z_{12} = Z_{21}$~~ ~~$H_{12} = H_{21}$~~ ~~$K_{12} = K_{21}$~~

Na základe vyššie uvedených vzťahov (11-12) a (11-13) môžeme konštatovať, že matice lineárnych dvojbrán sú vždy uncené 3 prvkami!

V praxi sa veľmi často používajú pozdĺžne symetrické dvojbrány. Symetrickou dvojbránou nazývame dvojbránu, u ktorej možno navzájom zameniť vstupnú a výstupnú bránu (vstupné a výstupné svorky), bez toho aby sa doplnili podmienky prenosu elektrickej energie.

Uvažujeme kaskádne rovnice pasívnej dvojbrány: potom platí:

$$\begin{bmatrix} U_1 \\ I_1 \end{bmatrix} = \underset{A}{\begin{bmatrix} a_{11} & a_{12} \\ a_{21} & a_{22} \end{bmatrix}} \begin{bmatrix} U_2 \\ -I_2 \end{bmatrix} = A \begin{bmatrix} U_2 \\ -I_2 \end{bmatrix} \quad (11-14)$$

$$\begin{bmatrix} U_2 \\ I_2 \end{bmatrix} = \begin{bmatrix} b_{11} & b_{12} \\ b_{21} & b_{22} \end{bmatrix} \begin{bmatrix} U_1 \\ -I_1 \end{bmatrix} = B \begin{bmatrix} U_1 \\ -I_1 \end{bmatrix} \quad (11-15)$$

Aby dvojbrána bola pozdĺžne symetrická, tak musí potom platiť:

$A = B$ (11-16)

Nypočítame teraz matice B , ak poznáme matice A :

$$B = \begin{bmatrix} b_{11} & b_{12} \\ b_{21} & b_{22} \end{bmatrix} = \begin{bmatrix} \frac{a_{11}}{\det A} & \frac{+a_{12}}{\det A} \\ \frac{+a_{21}}{\det A} & \frac{a_{22}}{\det A} \end{bmatrix} = \begin{bmatrix} a_{22} + a_{12} & \\ +a_{21} & +a_{11} \end{bmatrix} \quad (11-17)$$

Nakoniec platí (11-13) tj. $\det A = 1$, pri uvoľnení (11-16) dostaneme

$$\begin{bmatrix} a_{11} & a_{12} \\ a_{21} & a_{22} \end{bmatrix} = \begin{bmatrix} a_{22} & a_{12} \\ a_{21} & a_{11} \end{bmatrix} \quad (11-18)$$

Z rovnice (11-18) vidíme, že v prípade poradizne symetrických poradizných dvojbodných prvkov hermitskej matice dvojbodnomy splňujú podmienky:

$$a_{11} = a_{22}$$

(11-19)

Ďalej, vychádzajúc z prevodových vzťahov medzi prvkami matíc A, Y, B, k a H , zisťujeme, že podmienka poradiznej symetrie sa do vlastností prvkov týchto matíc prejavuje takto:

$$\begin{aligned} y_{11} = y_{22} & & z_{11} = z_{22} & & a_{11} = a_{22} & & b_{11} = b_{22} & & (11-20) \\ (y_{21} = y_{12}) & & (z_{12} = z_{21}) & & \det A = 1 & & \det B = 1 & & \\ & & & & \det H = 1 & & \det k = 1 & & \end{aligned}$$

Z uvedeného vidieť, že pasívna a symetrická lineárna dvojbodná matica má dve charakteristiky dvoma prvkami.

jednoduché určiť

Prázdna:

$$\begin{bmatrix} U_1 \\ I_1 \end{bmatrix} = \begin{bmatrix} a_{11} & a_{12} \\ a_{21} & a_{22} \end{bmatrix} \begin{bmatrix} U_2 \\ -I_2 \end{bmatrix} \Rightarrow \begin{bmatrix} U_2 \\ -I_2 \end{bmatrix} = \begin{bmatrix} a_{11} & a_{12} \\ a_{21} & a_{22} \end{bmatrix}^{-1} \begin{bmatrix} U_1 \\ I_1 \end{bmatrix}$$


$$= \begin{bmatrix} a_{22}/\det A & -a_{12}/\det A \\ -a_{21}/\det A & a_{11}/\det A \end{bmatrix} \begin{bmatrix} U_1 \\ I_1 \end{bmatrix}$$

$$\begin{bmatrix} U_2 \\ -I_2 \end{bmatrix} = \begin{bmatrix} a_{22}/\det A & -a_{12}/\det A \\ a_{21}/\det A & -a_{11}/\det A \end{bmatrix} \begin{bmatrix} U_1 \\ -I_1 \end{bmatrix} \quad \det A = 1$$

$$\begin{bmatrix} U_2 \\ I_2 \end{bmatrix} = \begin{bmatrix} a_{22} & a_{12} \\ a_{21} & a_{11} \end{bmatrix} \begin{bmatrix} U_1 \\ -I_1 \end{bmatrix} = \begin{bmatrix} b_{11} & a_{12} \\ a_{21} & a_{22} \end{bmatrix} \begin{bmatrix} U_1 \\ -I_1 \end{bmatrix}$$

$$a_{22} = a_{11} \quad a_{11} = a_{22}$$

11.2. Ďalšie vlastnosti matic pasívnych dvojpólov.



Obr. 141

Základom našich ďalších úvah bude fyzikálne odôvodnená požiadavka, aby celkový výkon, ktorý spotrebuje pasívna dvojbredna pri napájaní z dvoch zdrojov

s ľubovoľnými amplitúdami napätí U_1 a U_2 v zapojení podľa obr. 141, nebol záporný. Formulujeme ju na základe impedančných matic rovníc nasled

$$P_s = \operatorname{Re} [U_1 \bar{I}_1 + U_2 \bar{I}_2] \geq 0 \quad (11-21)$$

a po dosadení

$$\begin{aligned} P_s &= \operatorname{Re} [U_1 \bar{I}_1 + U_2 \bar{I}_2] = \operatorname{Re} [(Z_{11} I_1 + Z_{12} I_2) \bar{I}_1 + (Z_{21} I_1 + Z_{22} I_2) \bar{I}_2] = \\ &= \operatorname{Re} [Z_{11} I_1 \bar{I}_1] + \operatorname{Re} [Z_{12} I_2 \bar{I}_1] + \operatorname{Re} [Z_{21} I_1 \bar{I}_2] + \operatorname{Re} [Z_{22} I_2 \bar{I}_2] \end{aligned} \quad (11-22)$$

Ďalej, nech $I_1 = I_{r1} + j I_{i1}$ $I_2 = I_{r2} + j I_{i2}$

$$(11-23)$$

Dosadením (11-23) do (11-22) dostaneme:

$$P_s = \operatorname{Re} (Z_{11} I_{r1}^2 + Z_{11} I_{i1}^2) + 2 \operatorname{Re} [Z_{12} (I_{r1} I_{r2} + I_{i1} I_{i2})] + \operatorname{Re} [Z_{22} (I_{r2}^2 + I_{i2}^2)] \quad (11-24)$$

pričom sme použili vzťahy:

$$I_1 \bar{I}_1 = (I_{r1} + j I_{i1}) (I_{r1} - j I_{i1}) = I_{r1}^2 + j I_{i1} - j I_{i1} + I_{i1}^2 = I_{r1}^2 + I_{i1}^2$$

$$I_2 \bar{I}_2 = (I_{r2} + j I_{i2}) (I_{r2} - j I_{i2}) = I_{r2}^2 + j I_{i2} - j I_{i2} + I_{i2}^2 = I_{r2}^2 + I_{i2}^2$$

$$Z_{12} (I_2 \bar{I}_1) + Z_{21} (I_1 \bar{I}_2) = Z_{12} [I_2 \bar{I}_1 + I_1 \bar{I}_2] =$$

$$= Z_{12} (I_2 \bar{I}_1 + \overline{I_1 \bar{I}_2}) = 2 Z_{12} \operatorname{Re} (I_2 \bar{I}_1) = 2 Z_{12} \operatorname{Re} [(I_{r2} + j I_{i2})$$

$$(I_{r1} - j I_{i1})] = 2 Z_{12} \operatorname{Re} (I_{r1} I_{r2} + j I_{i2} I_{r1} - j I_{r2} I_{i1} + I_{i2} I_{i1}) =$$

$$= 2 Z_{12} (I_{r1} I_{r2} + I_{i1} I_{i2})$$

číslo (11-24) možno ďalej upraviť takto:

$$= [\operatorname{Re}(z_{11}) I_1^2 + 2\operatorname{Re}(z_{12}) I_1 I_2 + \operatorname{Re}(z_{22}) I_2^2] + [\operatorname{Re}(z_{11}) I_1^2 + 2\operatorname{Re}(z_{12}) I_1 I_2 + \operatorname{Re}(z_{22}) I_2^2] \geq 0 \quad (11-25)$$

Keďže dva členy v hranatých zátvorkách sú formálne rovnaké kvadratické formy reálnymi premennými I_1 a I_2 resp. I_1 a I_2 so spoločnou maticou kvadratickej formy

$$\operatorname{Re}(Z) = \begin{bmatrix} \operatorname{Re}(z_{11}) & \operatorname{Re}(z_{12}) \\ \operatorname{Re}(z_{12}) & \operatorname{Re}(z_{22}) \end{bmatrix} \quad (11-26)$$

Vzhľadom na platnosť (11-25) je táto kvadratická forma pozitívne semidefinitná, z čoho plynie, že i matica $\operatorname{Re}(Z)$ je pozitívne semidefinitná. Matematicky je známe, že $\operatorname{Re}(Z)$ bude pozitívne semidefinitná, ak a len ak jej hlavných subdeterminantov nebudú záporné. Vzhľadom na to, musia prvky matice $\operatorname{Re}(Z)$ vyhovovať týmto podmienkam:

$$\operatorname{Re}(z_{11}) \geq 0$$

$$\operatorname{Re}(z_{22}) \geq 0$$

$$\operatorname{Re}(z_{12}) \operatorname{Re}(z_{22}) - \operatorname{Re}(z_{11})^2 \geq 0$$

(11-27)

Keďže analogického postupu na základe admitančných ~~matric~~ rovníc dospejeme k podmienkam tvaru:

$$\operatorname{Re}(y_{11}) \geq 0$$

$$\operatorname{Re}(y_{22}) \geq 0$$

$$\operatorname{Re}(y_{11}) \operatorname{Re}(y_{22}) - \operatorname{Re}(y_{12})^2 \geq 0$$

(11-28)

Články (11-27) a (11-28) predstavujú veľmi dôležité vyjadrenie vlastností charakteristik pasívnych lineárnych dvojbodn:

Prvky hlavnej diagonály matric Z a Y musia byť dané vo forme realizovateľných funkcií, t.j. tak ako sme ich poznali v kapitole o jednobodoch. To vlastne znamená, že musia predstavovať ustupné impedancie (vstupné) alebo admitancie realizovateľných lineárnych dvojbodn.

b). Prvky mimo hlavnej diagonály ^{ne} musia byť realizovateľnými funkciami, čiže funkcie z_{12} resp. z_{21} nemusia mať vlastnosti paritných jednot

Podmienka (11-29) je zjedna, tiež ako podmienka reálnej časti:

Vrátme sa teraz, k energetickým funkciám, ktoré sme opísali v kapitole 10. Podľa rovnice (10.9) platí:

$$\bar{I}^T \bar{U} = F_0 + pT_0 + \frac{1}{p} U_0 \quad (11-29)$$

kde v prípade dvojbrňa platí:

$$U = Z I \quad \begin{bmatrix} U_1 \\ U_2 \end{bmatrix} = Z \begin{bmatrix} I_1 \\ I_2 \end{bmatrix} \quad (11-30)$$

Dosadením (11-30) do (11-29)

$$\bar{I}^T Z I = F_0 + pT_0 + \frac{1}{p} U_0 = F(p) \quad (11-31)$$

Pretože F_0, T_0 , a U_0 nehadobudajú záporné hodnoty, je funkcia $F(p)$ PRF. Prvky impedančnej matice Z prúdmi I_1 a I_2 tvoria kvadratickú formu:

$$\bar{I}^T Z I = [\bar{I}_1 \ \bar{I}_2] \begin{bmatrix} z_{11} & z_{12} \\ z_{21} & z_{22} \end{bmatrix} \begin{bmatrix} I_1 \\ I_2 \end{bmatrix} =$$

$$= z_{11} I_1 \bar{I}_1 + 2 z_{12} \text{Re} [I_1 \bar{I}_2] + z_{22} I_2 \bar{I}_2 =$$

$$= F_0 + pT_0 + \frac{1}{p} U_0 = F(p) \quad (11-34)$$

Z rovnice (11-34) je zrejme, že pól ktorejkoľvek parametra Z_{ik} je tiež pódom funkcie $F(p)$. Pretože $F(p)$ je PRF, musia všetky póly z_{ik} ležať v ľavej polrovine p , sú to funkcie regulárne v pravej polrovine s hladkými reziduami v jednoduchých póloch na imaginárnej ose.

funkcie, ktoré opisujú chovanie sa pasívnych recipročných dvojbŕan, majú tieto vlastnosti

- a). Žiadny pól funkcie z_{12} , y_{12} a $T_{12}(p)$ nemôže ležať v pravej polovici
- b). Žiadny pól $T_{12}(p)$ nemôže ležať v počiatku alebo v nekonečne.
- c). póly fcie z_{12} a y_{12} , ktoré ležia na imaginárnej osi sú jednoduché a reálnymi rezíduami
- d). póly funkcie $T_{12}(p)$, ktoré ležia na imaginárnej osi, sú jednoduché a imaginárnymi rezíduami
- e). admitančné a impedančné parametre spĺňajú rezíduovú podmienku

$$k_{11}k_{22} - k_{12}^2 \geq 0$$

vo všetkých poločkách ležiacich na imaginárnej osi.

- f). nulové body funkcií z_{12} , y_{12} a $T_{12}(p)$ môžu byť viacnásobné a môžu ležať hocikde v rovine p
- g. impedančné a admitančné parametre spĺňajú podmienku reálnych častí

$$r_{11}r_{22} - r_{12}^2 \geq 0$$

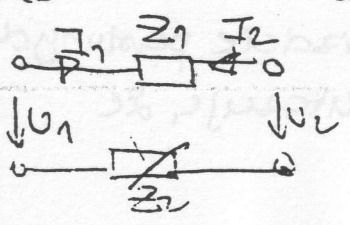
$$g_{11}g_{22} - g_{12}^2 \geq 0$$

Dotazy platnosti niektorých z týchto vlastností, v ďalšom uvádzat nebudeme. Zaujímavosťou ich môžu byť napr. v práci Balaban, V.:
 Syntéza elektrických obvodov, SNTC Praha, 1965.

11.3. Degenerované dvojbŕany

Na základe uvedených úvah by sme mohli predpokladať, že každá lineárna dvojbŕana má definované všetky druhy charakteristík. Dvojbŕany, ktoré epuzostávajú aspoň z 2 nezávislých obvodov, alebo ktoré nemajú galvanickú väzbu medzi vstupom a výstupom, tvoria výnimky z tohto pravidla. Takéto dvojbŕany nazývame degenerovanými dvojbŕanami. Charakteristiku

Príklad:



tuším tých dvojbŕan, že ich objasne možno v danom zmysle.

$$I_1 = \frac{U_1}{Z_1 + Z_2} - \frac{U_2}{Z_1 + Z_2}$$

Charakteristika:

$$I_2 = -I_A = -\frac{U_1}{Z_1 + Z_2} + \frac{U_2}{Z_1 + Z_2}$$

zidua parametrov Z_{ik} označuje ako k_{ik} a reziduom $F(p)$ označuje ρ . Ak zavedieme nové reálne premenné x_1 a x_2 , potom platí:

$$k = k_{11} x_1^2 + 2k_{12} x_1 x_2 + k_{22} x_2^2 \geq 0 \quad (11-35)$$

kže rezidua parametrov impedančnej matice ^{reálnu} tronia opäť kladnú kvadratickú formu a matrica reziduí je pozitívne semidefinítaná. Prvky matice reziduí

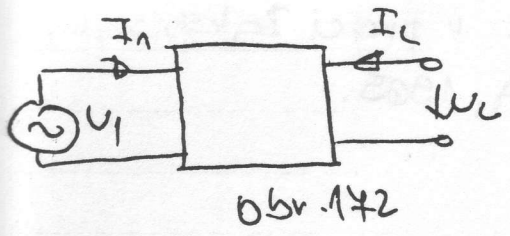
$$\begin{bmatrix} k_{11} & k_{12} \\ k_{12} & k_{22} \end{bmatrix} \quad (11-36)$$

esia teda vyhovovať podmienkam

$$\begin{aligned} k_{11} &\geq 0 \\ k_{22} &\geq 0 \\ k_{11}k_{22} - k_{12}^2 &\geq 0 \end{aligned} \quad \left. \begin{array}{l} (11-34) \\ (11-38) \end{array} \right\}$$

vy je pre nás len vzťah (11-38), nakoľko pasívny štvorpól napríklad sa dektuje na pasívny dvojpól, a z tejto predstavy jednoduchoplyneí vsetky istnosti parametrov Z_{11} a Z_{22} . Vzťah (11-38), udáva vzťahy medzi ziduaami k_{11} , k_{22} a k_{12} , sa nazýva reziduovou podmienkou.

Uvažujme teraz dvojbodnu v zapojení podľa obr. 142. Ako vidieť, jeho výstupné svorky sú rozpojené, t.j. $I_2 = 0$.



Impedančné rovnice sa v tomto prípade zjednodušia na tvar

$$\begin{aligned} U_1 &= Z_{11} I_1 \\ U_2 &= Z_{12} I_1 = Z_{21} I_1 \end{aligned} \quad (11-39)$$

tom, pre prenos napätia U_2/U_1 platí

$$U_2/U_1 = \frac{Z_{12} I_1}{Z_{11} I_1} = \frac{Z_{12}}{Z_{11}} = -\frac{y_{12}}{y_{22}} = T_{12}(p) \quad \begin{array}{l} \text{pri chová-} \\ \text{nterizovaní} \\ \text{vlastností pasívnych dvojbodn,} \\ \text{alebo 91)} \end{array} \quad (11-40)$$

unkcia $T_{12}(p)$, má značný význam v oblasti realizácie pasívnych dvojbodn. Analýza vlastností pasívnych dvojbodn ukazuje, že funkcie $T_{12}(p)$

2 zohlo

$$Y = \begin{bmatrix} 1/Z & -1/Z \\ -1/Z & 1/Z \end{bmatrix} \quad \text{kde } Z = Z_1 + Z_2$$

Nakon toho $\det Z = 1/Z^2 - 1/Z^2 = 0$, neexistuje Y , natohto $Y = Z^{-1}$.

$$U_1 = Z_1 I_1 + U_2 = -Z_1 I_2 + U_2 = U_2 - Z_1 I_2$$

$$-I_1 = -I_2 = 0 - I_2$$

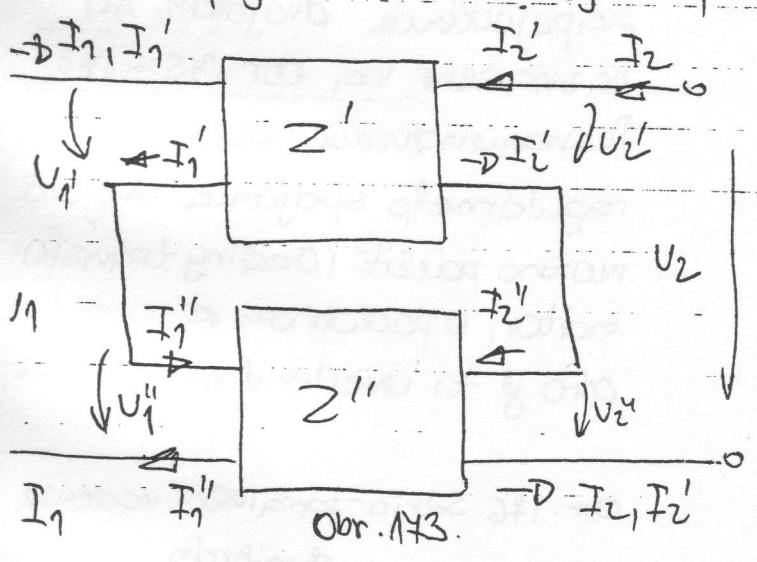
$$\begin{bmatrix} U_1 \\ I_1 \end{bmatrix} = \begin{bmatrix} 1 & Z \\ 0 & 1 \end{bmatrix} \begin{bmatrix} U_2 \\ -I_2 \end{bmatrix}$$

Praktický význam týchto dvojbrdn spočíva v tom, že ich vhodným spojením obdržime zložitejšie dvojbrdny, bezme operátorov úpravi.

11.4. Rádzenie dvojbrdn.

zapojenia dvojbrdn

Rádzenie dvojbrdn budeme hovoriť vtedy, ak výsledný útvar bude opäť dvojbrdny, pričom v každej brdne pretekajúce prúdy najdeme bez zmeny efektivity v obidvoch svorkách príslušnej dvojice. Najmä podmienke, majme regulárne najme zapojenie dvoch dvojbrdn podľa obr. 113. Uvedenie zásady rádzenia



bude splnené, ak existuje rovnosť prúdov

$$I_1 = I_1' = I_1'' \quad (11-41)$$

$$I_2 = I_2' = I_2''$$

Pre každú dielcu dvojbrdnu môžeme písať impedančné rovnice v tvare

$$\begin{bmatrix} U_1' \\ U_2' \end{bmatrix} = \begin{bmatrix} z_{11}' & z_{12}' \\ z_{21}' & z_{22}' \end{bmatrix} \begin{bmatrix} I_1' \\ I_2' \end{bmatrix}$$

$$\begin{bmatrix} U_1'' \\ U_2'' \end{bmatrix} = \begin{bmatrix} z_{11}'' & z_{12}'' \\ z_{21}'' & z_{22}'' \end{bmatrix} \begin{bmatrix} I_1'' \\ I_2'' \end{bmatrix} \quad (11-42)$$

akoľto platí:

$$U_1 = U_1' + U_1'' \quad (11-43)$$

$$U_2 = U_2' + U_2''$$

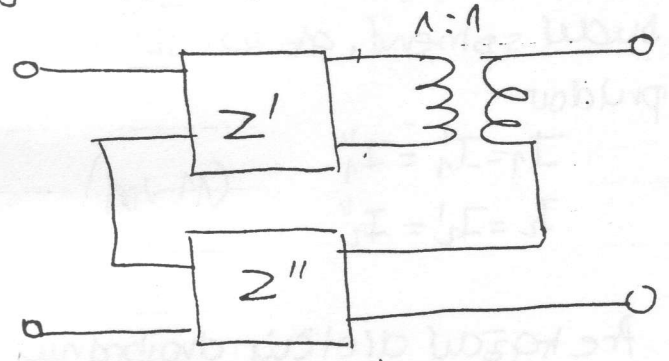
bsadeniu (11-42) do (11-43), pri uvození (11-41) dostáváme:

$$\begin{bmatrix} U_1 \\ U_2 \end{bmatrix} = \begin{bmatrix} U_1' + U_2' \\ U_1'' + U_2'' \end{bmatrix} = \begin{bmatrix} U_1 \\ U_2 \end{bmatrix} + \begin{bmatrix} U_2' \\ U_2'' \end{bmatrix} = \begin{bmatrix} z_{11}' & z_{12}' \\ z_{21}' & z_{22}' \end{bmatrix} \begin{bmatrix} I_1' \\ I_2' \end{bmatrix} + \begin{bmatrix} z_{11}'' & z_{12}'' \\ z_{21}'' & z_{22}'' \end{bmatrix} \begin{bmatrix} I_1'' \\ I_2'' \end{bmatrix} =$$

$$= \begin{bmatrix} z_{11}' + z_{11}'' & z_{12}' + z_{12}'' \\ z_{21}' + z_{21}'' & z_{22}' + z_{22}'' \end{bmatrix} \begin{bmatrix} I_1' \\ I_2' \end{bmatrix} = \begin{bmatrix} z_{11} & z_{12} \\ z_{21} & z_{22} \end{bmatrix} \begin{bmatrix} I_1 \\ I_2 \end{bmatrix} \quad (11-44)$$

t.j. $Z = Z' + Z''$ (11-45)

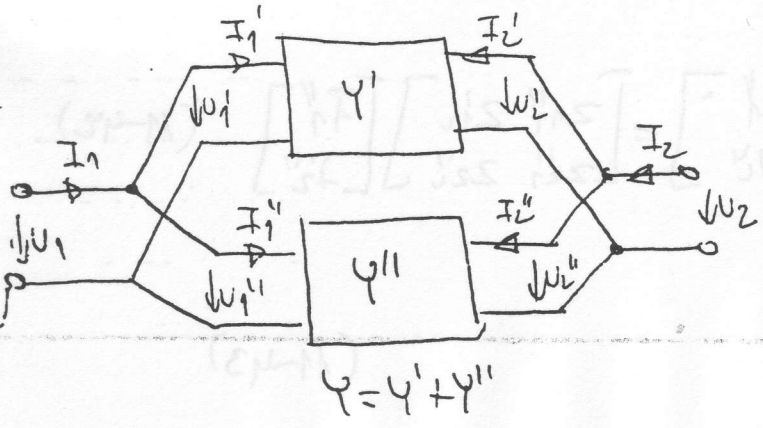
Z obr. 143 vidíte, že vstupní, resp. výstupné brny dílčích dvojbřn seřadí tak, aby tvořily dvojpól při sériovém řazení. Proto řazení dvojbřn podľa obr. 143 nazýváme sériovým řazením dvojbřn. Uspěšně lze představit maticu určuje podľa vzťahu (11-45). Rozmýšlejte, že regulárnost spojení dvojbřn můžeme pro teoretické úvahy zabezpečit zapojením ideálního transformátoru s převodem 1:1 na některou z brn spojených dvojbřn, ako je to nakreslené na obr. 144.



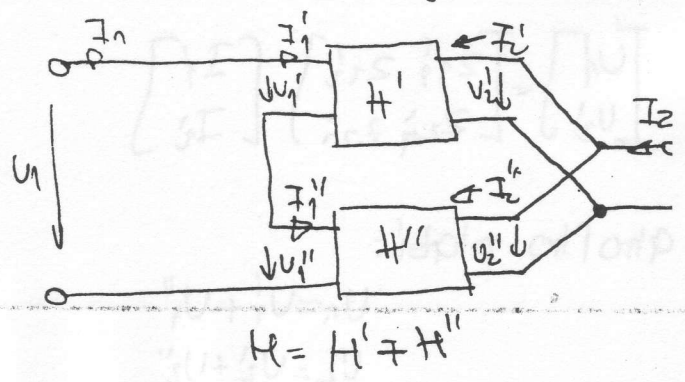
Obr. 144.

Další e typické způsoby zapojování dvojbřn, seřazení na obr. 145 ÷ 148. Rozmýšlejte, že za účelem regulárního spájení dvojbřn možno použít ideální transformátor, u podobném zapojení, ako je to uvedené na obr. 171

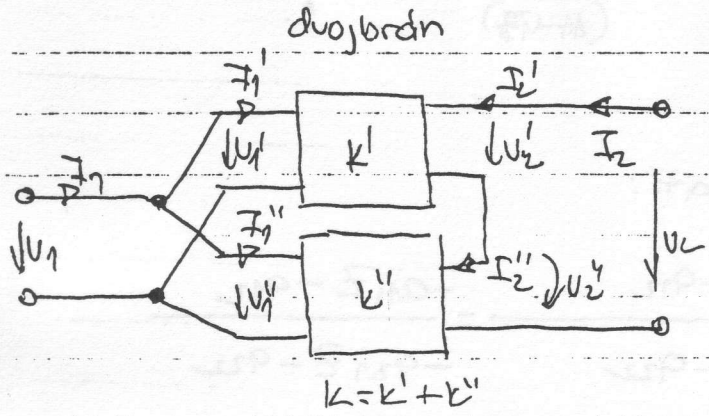
Paralelné řazení dvojbřn obr. 175



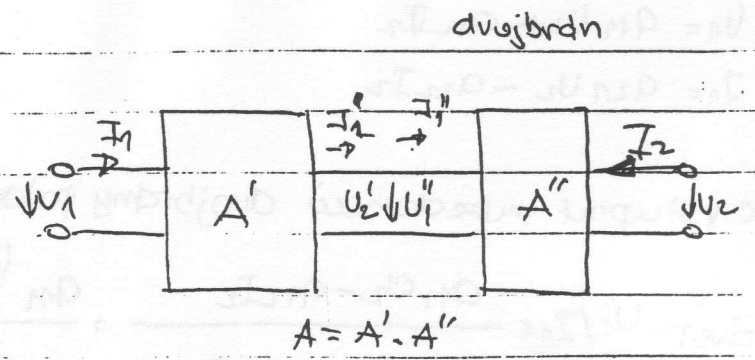
Obr. 146 Sérioparalelné řazení dvojbřn



obr. 144. Paralelné-seriové zapojenie



obr. 148. Kaskádne radenie



Metódy radenia dvojbrán, naznačené na obr. 143 ÷ obr. 148, možno efektívne aplikovať v prípade stanovovania maticových charakteristík zložitých dvojbrán, na základe známych maticových charakteristík jednoduchých dvojbrán.

1.5. Obrazová impedancia dvojbrán.

Obrazová impedancia dvojbrány je definovaná ako geometrický priemer impedancií na vstupnej ^{alebo} na výstupnej bráne, ak je druhá brána nazapráznu, t.j. potom nakrátko.

$$Z_{01} = \sqrt{Z_{1p} Z_{1k}}$$

$$Z_{02} = \sqrt{Z_{2p} Z_{2k}} \quad (M-46)$$

- de:
- Z_{1p} je vstupná impedancia napráznu (vstupnej brány)
- Z_{1k} je vstupná impedancia nakrátko (vstupnej brány)
- Z_{2p} je vstupná impedancia napráznu (výstupnej brány)
- Z_{2k} je vstupná impedancia nakrátko (výstupnej brány)
- Z_{01} ... obrazová impedancia z ľavej strany (zo strany vstupnej brány)
- Z_{02} ... obrazová impedancia z pravej strany (zo strany výstupnej brány)

~~Príklad~~ Predpokladáme, že vyšetrovaný štvorpól je zatiaľčný impedanciu Z na výstupnej bráne, pričom je opísaný kaskádnymi maticami. tomu platí:

$$U_1 = a_{11} U_2 + a_{12} I_2 \quad (11-47)$$

$$I_1 = a_{21} U_2 - a_{22} I_2$$

e vstupní impedanci dvojbřný potomeplati:

$$Z_{\text{vst}} = U_1 / I_1 = \frac{a_{11} U_2 - a_{12} I_2}{a_{21} U_2 - a_{22} I_2} = \frac{a_{11} \frac{U_2}{I_2} - a_{12}}{a_{21} \frac{U_2}{I_2} - a_{22}} = \frac{-a_{11} Z - a_{12}}{-a_{21} Z - a_{22}}$$

$$Z_{\text{vst}} = \frac{a_{11} Z + a_{12}}{a_{21} Z + a_{22}} \quad (11-48)$$

Použitím (11-48) možno Z_{1p} a Z_{1k} vypočítat takto:

$$Z_{1p} = \lim_{Z \rightarrow \infty} Z_{\text{vst}} = \frac{a_{11}}{a_{21}}$$

$$Z_{1k} = \lim_{Z \rightarrow 0} Z_{\text{vst}} = \frac{a_{12}}{a_{22}} \quad (11-49)$$

dosazením (11-49) do (11-46) dostáváme pro vyjádření obrazové impedanci Z_{01} tento výraz:

$$Z_{01} = \sqrt{Z_{1p} Z_{1k}} = \sqrt{\frac{a_{12} a_{11}}{a_{21} a_{22}}} \quad (11-50)$$

Podobný postup možno zúžit pre výpočet Z_{02} :

$$\begin{bmatrix} U_1 \\ I_1 \end{bmatrix} = \begin{bmatrix} a_{11} & a_{12} \\ a_{21} & a_{22} \end{bmatrix} \begin{bmatrix} U_2 \\ -I_2 \end{bmatrix} \Rightarrow \begin{bmatrix} U_2 \\ -I_2 \end{bmatrix} = \frac{1}{\det A} \begin{bmatrix} a_{22} & -a_{12} \\ -a_{21} & a_{11} \end{bmatrix} \begin{bmatrix} U_1 \\ -I_1 \end{bmatrix} \Rightarrow$$

$$\Rightarrow \begin{bmatrix} U_2 \\ I_2 \end{bmatrix} = \frac{1}{\det A} \begin{bmatrix} a_{22} & a_{12} \\ a_{21} & a_{11} \end{bmatrix} \begin{bmatrix} U_1 \\ -I_1 \end{bmatrix}$$

$$\left. \begin{aligned} U_2 &= \frac{a_{22}}{\det A} U_1 - \frac{a_{12}}{\det A} I_1 \\ I_2 &= \frac{a_{21}}{\det A} U_1 - \frac{a_{11}}{\det A} I_1 \end{aligned} \right\} \Rightarrow \frac{U_2}{I_2} = \frac{\frac{a_{22}}{\det A} U_1 - \frac{a_{12}}{\det A} I_1}{\frac{a_{21}}{\det A} U_1 - \frac{a_{11}}{\det A} I_1} = \frac{-a_{22} Z - a_{12}}{-a_{21} Z - a_{11}}$$

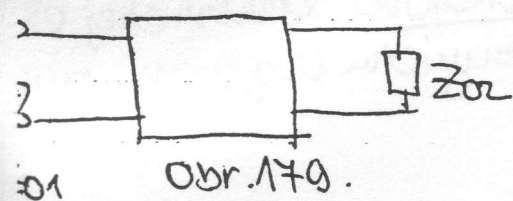
$$\frac{U_2}{I_2} = \frac{a_{22} Z + a_{12}}{a_{21} Z + a_{11}} \Rightarrow Z_{2p} = \frac{a_{12}}{a_{21}} \quad Z_{2k} = \frac{a_{11}}{a_{22}} \Rightarrow Z_{02} = \sqrt{\frac{a_{12} a_{11}}{a_{21} a_{22}}} \quad (11-51)$$

a výpočet obrazových impedancií možno teda použiť vzťahy (11-50) a (11-51). Zatažíme teraz výstupnú bránu dvojbodny obrazovou impedanciou Z_{02} . Potom, pre vstupnú impedanciu dvojbodny dostaneme:

$$Z_{vst} = \frac{a_{11} Z_{02} + a_{12}}{a_{21} Z_{02} + a_{22}} = \frac{a_{11} \sqrt{\frac{a_{22} a_{12}}{a_{21} a_{11}}} + a_{12}}{a_{21} \sqrt{\frac{a_{22} a_{12}}{a_{21} a_{11}}} + a_{22}} = \frac{\sqrt{a_{11} a_{12}}}{\sqrt{a_{21} a_{22}}} \frac{\sqrt{\frac{a_{11}}{a_{12}}} \sqrt{\frac{a_{22} a_{12}}{a_{21} a_{11}}} + \sqrt{\frac{a_{11}}{a_{12}}}}{\sqrt{\frac{a_{21}}{a_{22}}} \sqrt{\frac{a_{22} a_{12}}{a_{21} a_{11}}} + \sqrt{\frac{a_{21}}{a_{22}}}}$$

$$= \frac{\sqrt{\frac{a_{11} a_{12}}{a_{21} a_{22}}}}{\sqrt{\frac{a_{12}}{a_{11}}} + \sqrt{\frac{a_{22}}{a_{21}}}} = Z_{01} \quad (11-52)$$

vzťahu (11-52) vidíme, že ak dvojbodnu zatažíme na výstupe jej obrazovou impedanciou Z_{02} výstupnej brány, tak vstupná impedancia dvojbodny je rovná obrazovej impedancii dvojbodny vstupnej brány. (obr. 149).



ak zatažíme dvojbodnu impedanciu na vstupnej bráne obrazovou impedanciou Z_{01} , tak pre vstupnú impedanciu dvojbodny, z hľadiska výstupnej brány platí:

$$Z_{vst} = \frac{a_{22} Z_{01} + a_{12}}{a_{21} Z_{01} + a_{11}} = \frac{a_{22} \sqrt{\frac{a_{11} a_{12}}{a_{21} a_{22}}} + a_{12}}{a_{21} \sqrt{\frac{a_{11} a_{12}}{a_{21} a_{22}}} + a_{11}} = \frac{\sqrt{a_{22} a_{12}}}{\sqrt{a_{21} a_{11}}} \frac{\sqrt{\frac{a_{22}}{a_{12}}} \sqrt{\frac{a_{11} a_{12}}{a_{21} a_{22}}} + \sqrt{\frac{a_{12}}{a_{22}}}}{\sqrt{\frac{a_{21}}{a_{11}}} \sqrt{\frac{a_{11} a_{12}}{a_{21} a_{22}}} + \sqrt{\frac{a_{11}}{a_{21}}}} = Z_{02}$$

vzťahu (11-53) vidíme, že ak dvojbodnu zatažíme na výstupe obrazovou impedanciou Z_{02} vstupnej brány, tak

ústupná impedancia dvojbrány je rovná obrazovej impedancii dvoch
zvýštepnej brány.

ak je dvojbrána pozdĺžne súmerná, tak platí:

$$a_{11} = a_{22}$$

(11-54)

Dosadením (11-54) do (11-50) a (11-51), zistujeme, že dvoj-
brána je potom charakterizovaná jednou obrazovou impedanciou

$$Z_0 = Z_{01} = Z_{02} = \sqrt{\frac{a_{12}}{a_{21}}}$$

(11-55)

ak zaťažíme dvojbránu jej obrazovou impedanciou, hovoríme, že
dvojbrána je impedancie prispôsobená. Znamená to, že pri prenose
energie ele. signálu vstup na výstup dvojbrány nenastávajú straty

Poznamenávame, že samotná obrazová impedancia neurčuje
jednoznačne prenosové vlastnosti dvojbrány. Pretože obrazová
impedancia nič nehovorí o podmienkach prenose elektrickej en-
ergie cez dvojbránu, druhým prvkom charakterizujúcim dvojbránu, musí
byť mejsť miera prenose.

11.6. Prenosové charakteristiky dvojbodku.

vôjbrdka býva akýmsi medzičlánkom, ktorá je vložená medzi zdrojom elektrickej energie (prípojeným ku vstupnej brdne) a spotrebičom (prípojeným k výstupnej brdne). Tento medzičlánok ovplyvňuje prenos elektrickej energie zo zdroja spotrebiča. Činiteľ prenosu dvojbodny je definovaný ako pomer

výstupná veličina.

vstupná veličina

vedenými veličinami môžu byť napätia, prúdy alebo výkonu na vstupe a výstupe dvojbodny.

Činiteľa prenosu napätia (alebo prenos napätia) označíme symbolom $k_u = U_2/U_1$, tým. činiteľ prenosu prúdu (prenos prúdu) je často definovaný vzťahom $k_I = I_2/(-I_1)$. Činiteľ prenosu výkonu (prenos výkonu) je pri harmonickom napájaní definovaný vzťahom

$$K_p = k_u k_I = \frac{U_2 (-I_2)}{U_1 I_1} \quad (11-56)$$

praxi sa veľmi často používa logaritmus prevrátenej hodnoty činiteľa prenosu výkonu. Táto veličina, definovaná vzťahom

$$g = \frac{1}{2} \ln G = \frac{1}{2} \ln \frac{1}{k_I k_u} = \frac{1}{2} \ln |G| e^{j\phi} =$$

$$= \frac{1}{2} \ln |G| + \frac{1}{2} \phi j = \frac{1}{2} \ln \left| \frac{U_1 I_1}{U_2 I_2} \right| + j \frac{\phi}{2} =$$

$$= b + ja \quad (11-54)$$

de

$$b = \frac{1}{2} \ln \left| \frac{U_1 I_1}{U_2 I_2} \right|$$

$$a = \frac{\phi}{2}$$

(11-58)

veľičina g sa nazýva mierou prenosu, veličina b sa nazýva mierou útlmu a veličina a sa nazýva mierou posuvu. Mieru posuvu vyjadrujeme v radiánoch alebo v stupňoch. ~~každá~~ jednotkou miery útlmu definovanou vzťahom (11-59) je N_p . Miera útlmu

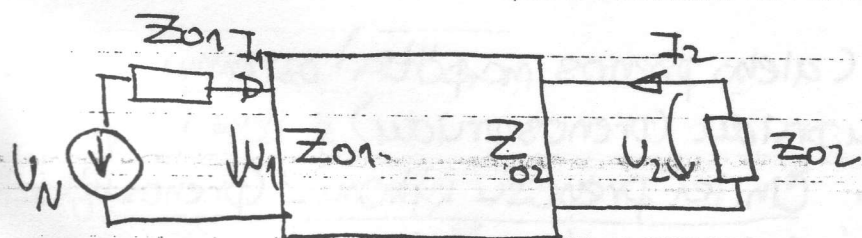
može byť definovaná aj jednotkou $\frac{dB}{dB}$, a to takto:

$$b = 10 \log \frac{U_1 I_1}{U_2 I_2} \quad [dB] \quad (11-59)$$

Da sa jednoducho ukáže, že medzi jednotkami N_p a dB platí táto súvislosť:

$$1 N_p = 8,686 \text{ dB} \quad 1 \text{ dB} = 0,115 N_p \quad (11-60)$$

11.4 Obrázovacia miera prenosu.



Obr. 180

Začínajú dvojbrannú jej obrázovnou impedanciou $Z_{vystupne}$ strany Z_{02} (Obr. 180). Ustávaná impedancia je potom rovná Z_{01} . Obrázovacia miera prenosu je potom daná vzťahom

$$g_{01} = \frac{1}{2} \ln \frac{U_1 I_1}{U_2 (-I_2)} = b_{01} + j a_{01} \quad (11-61)$$

Z Obr. 180 vidíme, že platia tieto vzťahy:

$$I_1 = U_1 / Z_{01} \quad I_2 = -U_2 / Z_{02} \quad (11-62)$$

o dosadení (11-62) do (11-61) dostávame:

$$g_{01} = \frac{1}{2} \ln \frac{U_1^2 / Z_{01}}{U_2^2 / Z_{02}} = \frac{1}{2} \ln \left[\left(\frac{U_1}{U_2} \right)^2 \frac{Z_{02}}{Z_{01}} \right] = \ln \frac{U_1}{U_2} + \frac{1}{2} \ln \frac{Z_{02}}{Z_{01}} = \ln \frac{U_1}{U_2} \sqrt{\frac{Z_{02}}{Z_{01}}} \quad (11-63)$$

prenos napätia je definovaný vzťahom

$$U_1 = a_{11} U_2 + a_{12} (-I_2) = a_{11} U_2 + a_{12} U_2 / Z_{02} \quad (11-64)$$

čo dostávame

$$\frac{U_1}{U_2} = a_{11} + a_{12} \frac{1}{Z_{02}} = \frac{a_{11} Z_{02} + a_{12}}{Z_{02}} \quad (11-65)$$

Dosadením (11-65) do (11-63) dostaneme pre obrazovú mernú prenosku tento vzťah:

$$\begin{aligned}
 g_{01} &= \ln \frac{a_{11} z_{02} + a_{12} \sqrt{\frac{z_{02}}{z_{01}}}}{z_{02}} = \ln \frac{a_{11} z_{02} + a_{12}}{\sqrt{z_{01} z_{02}}} = \\
 &= \ln \frac{a_{11} \sqrt{\frac{a_{22} a_{12}}{a_{11} a_{21}}} + a_{12}}{\sqrt{\frac{a_{22} a_{12}}{a_{11} a_{21}} \cdot \frac{a_{11} a_{12}}{a_{22} a_{21}}}} = \ln \frac{a_{11} \sqrt{\frac{a_{22} a_{12}}{a_{11} a_{21}}} + a_{12}}{\sqrt{\frac{a_{11} a_{12}}{a_{21}}}} = \\
 &= \ln \frac{\sqrt{a_{11} a_{22} a_{12}} + a_{12} \sqrt{a_{21}}}{\sqrt{a_{12}}} = \ln \left(\sqrt{a_{11} a_{22}} \sqrt{a_{12} a_{21}} \right) \quad (11-65).
 \end{aligned}$$

ke obrazovú mernú prenosku dvojbrány z výstupnej brány na vstupnú dostaneme:

$$\begin{aligned}
 g_{02} &= \frac{1}{2} \ln \frac{U_2 I_2}{U_1 (-I_1)} = \frac{1}{2} \ln \frac{U_2 \frac{U_2}{z_{02}}}{U_1 \frac{U_1}{z_{01}}} = \frac{1}{2} \ln \left[\left(\frac{U_2}{U_1} \right)^2 \cdot \left(\frac{z_{01}}{z_{02}} \right) \right] = \\
 &= \ln \frac{U_2}{U_1} \sqrt{\frac{z_{01}}{z_{02}}} \quad (11-67)
 \end{aligned}$$

ke na pätie U_2 , možno pomocou spätných kaskádnych rovníc písať tento vzťah:

$$\begin{aligned}
 U_2 &= b_{11} U_1 + b_{12} (-I_1) = a_{22} U_1 + a_{12} (-I_1) = a_{22} U_1 + a_{12} U_1 / z_{01} = \\
 &= U_1 \frac{a_{22} z_{01} + a_{12}}{z_{01}} \quad (11-68)
 \end{aligned}$$

Dosadením (11-68) do (11-67) dostaneme:

$$\begin{aligned}
 g_{02} &= \ln \frac{z_{01} a_{22} + a_{12}}{\sqrt{z_{01} z_{02}}} = \ln \frac{a_{22} \sqrt{\frac{a_{11} a_{12}}{a_{22} a_{21}}} + a_{12}}{\sqrt{\frac{a_{22} a_{12}}{a_{11} a_{21}} \cdot \frac{a_{11} a_{12}}{a_{22} a_{21}}}} = \\
 &= \ln \left[a_{11} a_{22} + \sqrt{a_{11} a_{12}} \sqrt{a_{21} a_{22}} \right] \quad (11-69)
 \end{aligned}$$

ako vidieť zo vzťahov (11-65) a (11-69), platí:

$$g_{\phi_1} = g_{\phi_2} = g_{\phi} \quad (11-70)$$

Definícia obrazovej miery prenosu dovoľuje použitie hyperbolických funkcií s komplexným argumentom na vyjadrenie prvkov kaskádnej matice. Keďže

$$e^{g_{\phi}} = \sqrt{a_{11}a_{22}} + \sqrt{a_{12}a_{21}} \quad (11-71)$$

je prevrátená hodnota

$$\begin{aligned} e^{-g_{\phi}} &= \frac{1}{\sqrt{a_{11}a_{22}} + \sqrt{a_{12}a_{21}}} = \frac{\sqrt{a_{11}a_{22}} - \sqrt{a_{12}a_{21}}}{a_{11}a_{22} - a_{12}a_{21}} = \\ &= \frac{\sqrt{a_{11}a_{22}} - \sqrt{a_{12}a_{21}}}{\det A} = \sqrt{a_{11}a_{22}} - \sqrt{a_{12}a_{21}} \quad (11-72) \end{aligned}$$

kde sme uvažili tu skutočnosť, že pre pasívne ~~prvky~~ platí $\det A = 1$ dvojbodky
z rovníc (11-71) a (11-72) môžeme vypočítať:

$$\sinh g_{\phi} = \frac{1}{2} (e^{g_{\phi}} - e^{-g_{\phi}}) = \sqrt{a_{12}a_{21}} \quad (11-73)$$

$$\cosh g_{\phi} = \frac{1}{2} (e^{g_{\phi}} + e^{-g_{\phi}}) = \sqrt{a_{11}a_{22}}$$

Nakoľko platí:

$$\frac{Z_{\phi_1}}{Z_{\phi_2}} = \sqrt{\frac{a_{11}a_{22}}{a_{21}a_{12}}} \quad \frac{Y_{\phi_2}}{Y_{\phi_1}} = \sqrt{\frac{a_{22}a_{11}}{a_{12}a_{21}}} \quad (11-74)$$

vypočítajme výraz:

~~$$\frac{Z_{\phi_2}}{Z_{\phi_1}} = \sqrt{\frac{a_{22}a_{11}}{a_{12}a_{21}} \cdot \frac{a_{11}a_{22}}{a_{21}a_{12}}} = \frac{a_{11}}{a_{21}}$$~~

Pri použití vzťahov (11-74) možno prvky kaskádnej matice porovnať dvoj-
ordny vypočítať takto:

$$\cosh g_0 = \sqrt{a_{11} a_{22}} \Rightarrow \boxed{a_{11}} \xrightarrow{a_{11}} \cosh g_0 = \sqrt{\frac{a_{11}}{a_{22}}} \cosh g_0 =$$

$$= \sqrt{\frac{a_{11} \cdot a_{12}}{a_{22} a_{21}} \quad \frac{a_{11} a_{21}}{a_{22} a_{12}}} \cosh g_0 = \sqrt{\frac{Z_{01}}{Z_{02}} \cosh g_0} \quad (11-75)$$

$$z_{22} = \frac{a_{22}}{\sqrt{a_{11} a_{22}}} \cosh g_0 = \sqrt{\frac{a_{22}}{a_{11}}} \cosh g_0 = \sqrt{\frac{a_{22} a_{12}}{a_{11} a_{21}} \quad \frac{a_{22} a_{21}}{a_{11} a_{12}}} \cosh g_0 =$$

$$= \sqrt{\frac{Z_{02}}{Z_{01}} \cosh g_0} \quad (11-76)$$

$$a_{12} = \frac{a_{12}}{\sqrt{a_{12} a_{21}}} \sinh g_0 = \sqrt{\frac{a_{12}}{a_{21}}} \sinh g_0 = \sqrt{\frac{a_{12} a_{11}}{a_{21} a_{22}} \quad \frac{a_{12} a_{22}}{a_{21} a_{11}}} \sinh g_0 =$$

$$= \sqrt{Z_{01} Z_{02} \sinh g_0} \quad (11-77)$$

$$a_{21} = \frac{a_{21}}{\sqrt{a_{12} a_{21}}} \sinh g_0 = \sqrt{\frac{a_{21}}{a_{12}}} \sinh g_0 = \sqrt{\frac{a_{21} a_{22}}{a_{12} a_{11}} \quad \frac{a_{21} a_{11}}{a_{12} a_{22}}} \sinh g_0 =$$

$$= \frac{1}{\sqrt{Z_{01} Z_{02}}} \sinh g_0 \quad (11-78)$$

Članky (11-75) ÷ (11-78) reprezentujú vyjadrenie prvku kaskádnej matice súvnej dvojbrány pomocou obrazových impedancií a obrazovej mýry enosa. Pre súmernú dvojbránu, kde

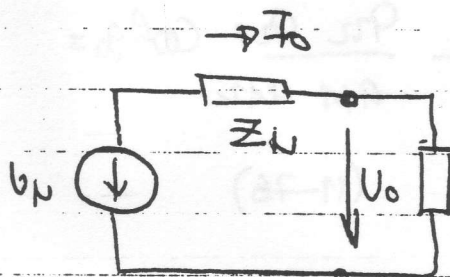
$$Z_{01} = Z_{02} = Z_0 \quad (11-79)$$

× vzťahy (11-75) ÷ (11-78) zjednodušia nasledovne:

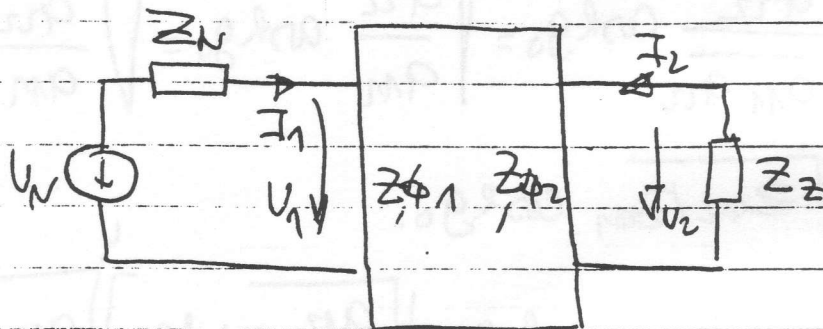
$$A = \begin{bmatrix} \cosh g_0 & Z_0 \sinh g_0 \\ \frac{\sinh g_0}{Z_0} & \cosh g_0 \end{bmatrix} \quad (11-80)$$

Na zaver tohoto odseku poznamujeme, ze prezentovana forma obrazovej impedanci a obrazovej miery prenosu predstavuje teoreticky zklad zobekoucych k-filtrov.

11.8. Prevádzková, oložení a styková miera prenosu.



Obr. 181



Obr. 182

AK má je dvojbrána impedancne prispôsobená ani na vstupnej, ani na výstupnej bráne, t.j. ak $Zz \neq Zp2$ a $ZN \neq Zp1$ (Obr. 182) vznikne dodatočný útlm, impedancným neprispôsobením. V tomto prípade definujeme mieru prenosu takto:

$$g = \frac{1}{2} \ln \frac{I_0 \cdot U_0}{(-I_2) U_2} \quad (11-81)$$

Kde $U_0 I_0$ je zdanlivý výkon, ktorý by dodával zdroj do záťaže Za priamo (Obr. 181), kým $U_2 (-I_2)$ je výkon dodaný do záťaže cez dvojbránu (Obr. 182). Ak je

$$Za = ZN \quad (11-82)$$

ak rovnica (11-81) definuje tzv. prevádzkovú mieru prenosu. V tomto prípade platí:

$$g = \frac{1}{2} \ln \frac{I_0 U_0}{(-I_2) U_2} = \frac{1}{2} \ln \frac{U_N \cdot \frac{U_N}{Z_N}}{(-I_2) U_2 \cdot Z_z} = \frac{1}{2} \ln \frac{U_N^2}{4 Z_N} \frac{1}{(-I_2)^2 Z_z} =$$

$$= \frac{1}{2} \ln \frac{U_N}{2 (-I_2) \sqrt{Z_N Z_z}} \quad (11-83)$$

ad je

$$I_1 = Z_2$$

(11-84)

an vzťah (11-81) je definíciou vloženj miery prenosu. Pretože podľa obr. 11-11

$$I_0 = \frac{U_N}{Z_N + Z_2}$$

(11-85)

staneme definíčný vzťah pre vloženj mieru prenosu

$$\begin{aligned} f_U &= \frac{1}{2} \ln \frac{U_0 I_0}{U_2 (-I_2)} = \frac{1}{2} \ln \frac{\frac{U_N}{Z_N + Z_2} \frac{U_N Z_2}{Z_N + Z_2}}{(-I_2)^2 Z_2} = \ln \frac{U_N}{(Z_N + Z_2) (-I_2)} \\ &= \ln \frac{U_N}{2 (-I_2) \sqrt{Z_N Z_2}} - \ln \frac{Z_N + Z_2}{2 \sqrt{Z_N Z_2}} \\ &= g - \ln \frac{Z_N + Z_2}{2 \sqrt{Z_N Z_2}} = g - g_{st} \end{aligned} \quad (11-86)$$

de g_{st} je tzv. styrová miera prenosu, ktorá je definovaná ~~pre~~ takto:

$$g_{st} = \ln \frac{Z_N + Z_2}{2 \sqrt{Z_N Z_2}} \quad (11-87)$$

odnútne teraz miera prenosu (vloženj). z rovníc

$$U_1 = U_N - Z_N I_1$$

$$I_2 = (-I_2) Z_2$$

$$U_1 = a_{11} U_2 - a_{12} I_2$$

$$I_1 = a_{21} U_2 - a_{22} I_2$$

(11-88)

počítame U_N ako funkciu I_2 takto:

$$U_N = U_1 + Z_N I_1 = a_{11} U_2 - a_{12} I_2 + a_{21} U_2 Z_N - a_{22} I_2 Z_N =$$

$$= -a_{11} Z_2 I_2 - a_{12} I_2 - a_{21} Z_N Z_2 I_2 - a_{22} Z_N I_2 =$$

$$= (a_{11} Z_2 + a_{12} + a_{21} Z_N Z_2 + a_{22} Z_N) (-I_2) \quad (11-89)$$

keď dosadieme sem za prvky kaskádnej matice výrazy (11-75)÷(11-78), dostaneme po nahradení hyperbolických funkcií exponenciálnymi funkciami a po jednoduchovej úprave:

$$\frac{U_N}{(-I_2)} = \frac{1}{2\sqrt{Z_{01}Z_{02}}} (Z_2 + Z_{02})(Z_N + Z_{01}) e^{g_0} \left[1 - \frac{Z_2 - Z_{02}}{Z_2 + Z_{02}} \cdot \frac{Z_N - Z_{01}}{Z_N + Z_{01}} e^{-2g_0} \right] \quad (11-92)$$

Označme

$$S_1 = \frac{Z_2 - Z_{02}}{Z_2 + Z_{02}} \quad S_2 = \frac{Z_N - Z_{01}}{Z_N + Z_{01}} \quad (11-93)$$

keďže S_1 a S_2 sú zvisiteľ odrazu na výstupnej a vstupnej bráne. Po dosadení (11-93) do (11-92) a potom (11-92) do (11-86) dostaneme:

$$Z_N = P_N \frac{(Z_2 + Z_{02})(Z_N + Z_{01}) e^{g_0} [1 - S_1 S_2 e^{-2g_0}]}{2\sqrt{Z_{01}Z_{02}} (Z_N + Z_2)} \quad (11-94)$$

čitateľa aj menovateľa (11-94) vynásobíme výrazom $2\sqrt{Z_N Z_2}$ a logaritmizujeme. Potom dostaneme:

$$Z_N = g_0 + \ln \frac{Z_N + Z_{01}}{2\sqrt{Z_N Z_{01}}} + \ln \frac{Z_2 + Z_{02}}{2\sqrt{Z_2 Z_{02}}} - \ln \frac{Z_N + Z_2}{2\sqrt{Z_N Z_2}} + \ln [1 - S_1 S_2 e^{-2g_0}]$$

$$g_N = g_0 + g_1 + g_2 - g_3 + g_4 \quad (11-95)$$

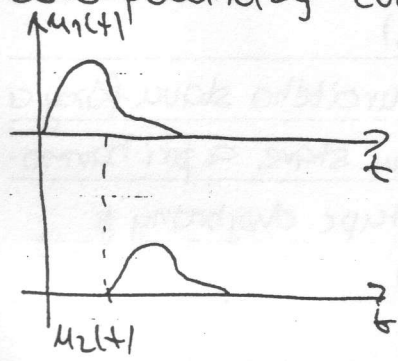
keďže $g = b + jd$

ak každá miera prenosu má svoju mieru útlmu (b) a mieru posunu (d).
 v ztáke (11-95) p:

- o ... obrazový útlm
- o ... stykové útlmy spôsobené neprispôsobením dvojbrány a impedancií na vstupe a výstupe
- o ... stykový útlm spôsobený neprispôsobením výstupnej impedancie zdroja a záťažovacej impedancie
- o ... útlm, ktorý vzniká vzájomnou interakciou odrazov na vstupnej a

9. Dvojbrána ako ideálny prenosový zložok.

Za ideálny prenosový článok budeme považovať také dvojbrána, u ktorej je signál na výstupnej bráne rovnaký tvar ako signál na vstupnej bráne. Môže mať ale inú mierku (môže byť zeslabený alebo zesilnený) a môže byť sovo posunutý (omeštrovený) (Obr. 183). Keď označíme vstupný signál $u_1(t)$ a



Obr. 183

výstupný signál $u_2(t)$, potom uvedení poskladavku môžeme formulovať v tvare

$$u_2(t) = A u_1(t - t_0) \quad (11-96)$$

kde A je hodnota alebo zľporma nerulová konstanta, komečnej veľkosti

$$0 < |A| < \infty \quad (11-97)$$

t_0 to je hodnota konstanta (výstupný signál nemôže predbehnúť vstupný signál). Keď ma (11-97)

kužeme Fourierovou transformáciou, dostaneme

$$U_2(j\omega) = A e^{-j\omega t_0} U_1(j\omega) \quad (11-98)$$

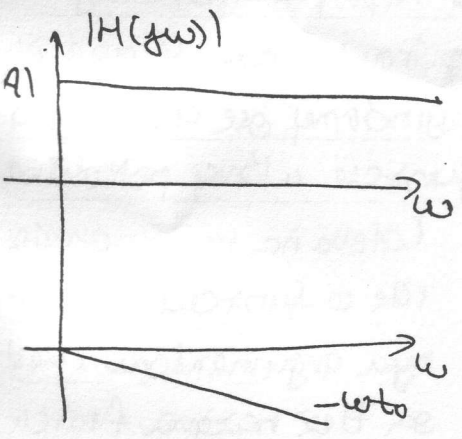
ako pre frekvenciu charakteristiku ideálneho prenosového článku dostaneme

$$H(j\omega) = U_2(j\omega) / U_1(j\omega) = A e^{-j\omega t_0} = |H(j\omega)| e^{j\varphi(\omega)} \quad (11-99)$$

$$|H(j\omega)| = |A|$$

$$\varphi(\omega) = -\omega t_0$$

$$(11-100)$$



Obr. 184

ako vidieť zo vzťahu (11-100), AFCH ideálneho prenosového článku je priamka rovnobežná s osou frekvencií teoreticky v rozsahu $0 \leq \omega < \infty$ (prakticky len na zhrne spektra prenosového signálu). FFCH ideálneho prenosového článku je llinečná, a je reprezentovaná priamkou prechádzajúcou počiatkom súradnej sústavy, ktorá má zápornú smernicu t_0 . Obidve charakteristiky ideál-

o prenosového článku sú naznačené na obr. 184.

Stredne lineárne.

o. Stupinové a fázové oneskorenie.

dnou mierkou pre určenie oneskorenia signálov pri prechode cez dvojbrána je . Stupinové oneskorenie, definované vzťahom

$$t_s = - \frac{d\varphi(\omega)}{d\omega} \quad (11-101)$$

kde $\varphi(\omega)$ je FFGH. t_s určuje čas potřebný k přenosu signálu, jeho spektrum je rozloženo v limitní blízkosti určité frekvence ω .

Dalším pojmem je tzv. fázové oneskorení, které je definováno vztahem $t_g = - \frac{\varphi(\omega)}{\omega}$ (11-102)

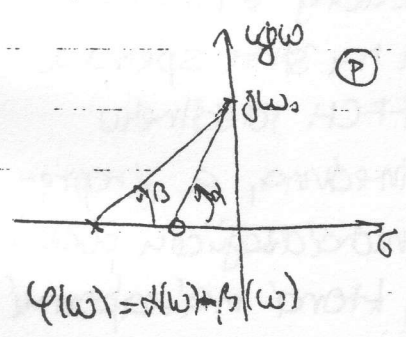
Fázové oneskorení vyjadřuje čas potřebný na přenos určitého stavu fáze a dvojbřnu zatíženou zvolenou impedancí v ustálenom stavě a při harmonickom napájení. (Fáze harmonického signálu na ústupu dvojbřny je oneskorena oproti vstupnému signálu o hodnotu ωt_o).

11.11. Dvojbřny s minimálnym a neminimálnym argumentom prenosovej funkcie...

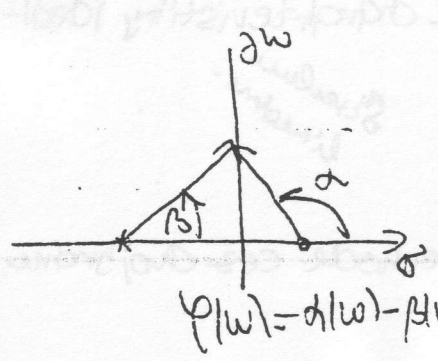
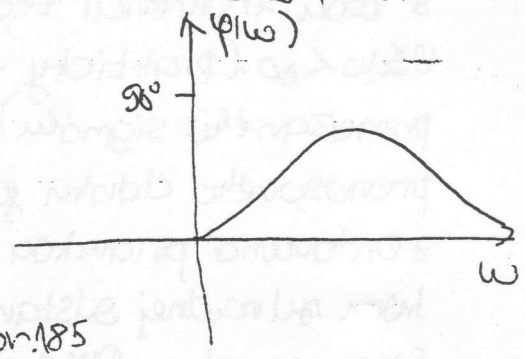
Prenosová funkcia dvojbřny, ktorá obsahuje len členy so sústredenými parametrami, možno vyjadriť v tomto tvare:

$$H(p) = \frac{b_n p^n + b_{n-1} p^{n-1} + \dots + b_1 p + b_0}{a_m p^m + a_{m-1} p^{m-1} + \dots + a_1 p + a_0} \quad (11-103)$$

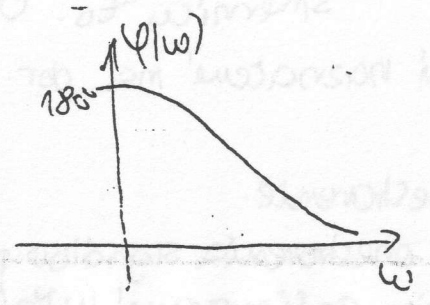
Ako vieme z predchádzajúcich odsekov, póly funkcie $H(p)$, zodpovedajúce stabilným systémom ~~musia~~ ležať v ľavej otvorenej polovine komplexnej roviny. Nulové body $H(p)$ môžu ležať v ľavej polovine, na imaginárnej ose alebo v pravej polovine. Ak ležia nulové body prenosovej funkcie v ľavej polovine



obr. 185



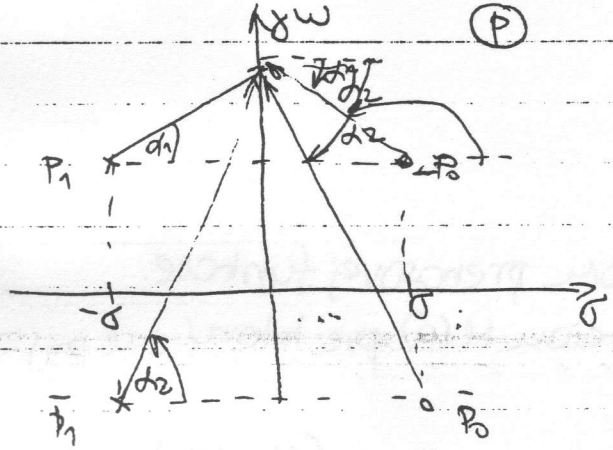
obr. 186



(alebo na imaginárnej ose) o funkciu s minimálnym argumentom. Časť sa tiež nazýva funkcia s minimálnou fázou (obr. 185). Ak ležia aspoň jeden nulový bod $H(p)$ v pravej polovine, jedná sa o funkciu s neminimálnym argumentom (nemínimálnou fázou).

6.12. Fázovací články.

definíciou dvojbrdny s minimálnou fázou užito súvisí definícia dvojbrdny prenosovou funkciou fázovacieho článku. Prenosová funkcia fázovaciej dvojbrdny má dvojbrdná, ktorej póly ležia v ľavej polrovine a nulové body sú vpravoľavým obrazom pólov vzhľadom k imaginárnej osi. Uvažujme dvojbrdnu, ktorej odpovedajúci diagram pólov a núl je naznačený na obr. 187. Prenosová funkcia tejto dvojbrdny má tvar:



$$H(p) = \frac{(p+p_0)(p+\bar{p}_0)}{(p+p_1)(p+\bar{p}_1)} \quad (11-103)$$

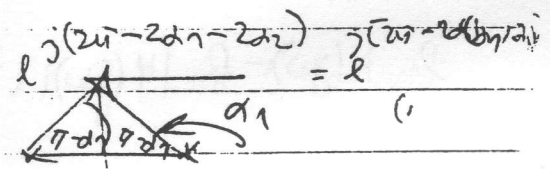
ktorého platí:

$$p_0 = -\bar{p}_1 \quad \bar{p}_0 = -p_1$$

Obr. 184.

tak (11-103) možno vyjadriť tiež takto:

$$p) = \frac{(p-\bar{p}_1)(p-p_1)}{(p+\bar{p}_1)(p+p_1)} = \frac{|p_1| e^{j(\sigma-\alpha_1)} |p_1| e^{j(\sigma-\alpha_2)}}{|p_1| e^{j\alpha_1} |p_1| e^{j\alpha_2}}$$



z toho je zrejmé: že:

$$|H(j\omega)| = 1$$

$$\varphi(\omega) = -2\alpha + 2(\alpha_1 + \alpha_2)$$

$$\alpha_1 = (\sigma - \alpha_1) = 2\alpha_1 - \pi$$

dvojbrdna má teda nulový útlm pri všetkých reálnych frekvenciách, a porovnáva fázu.

Uvažujme napr. tieto prenosové funkcie:

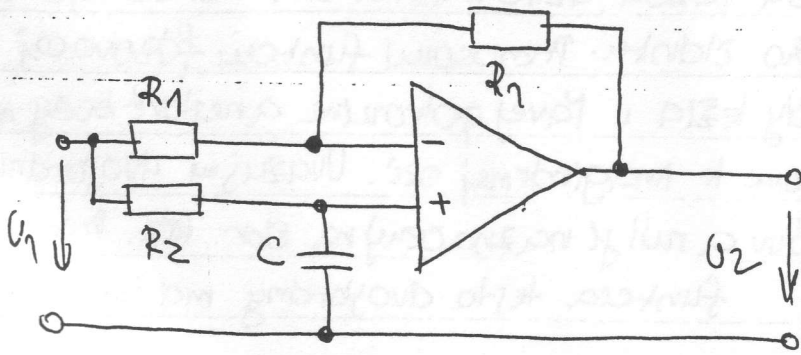
$$p) = \frac{(p-3)(p+4)}{(p+2)(p+5)} = \frac{(p+4)(p+3)}{(p+2)(p+5)} \cdot \frac{p+3}{p+3}$$

min. arg nevln.-fáz. článok

$$\varphi(\omega) = 2(\alpha_1 - \pi) + 2(\alpha_2 - \beta) = 2(\alpha_1 + \alpha_2) - 2\pi = 2[\alpha_1(\omega) + \alpha_2(\omega)]$$

oko vidieť, že prenosová funkcia dvojbrdny s minimálnou fázou možno nahraďiť súčinom prenosovej funkcie s minimálnou fázou a prenosových funkcií fázovacích článkov.

Príklad jednoduchej fázovacej dvojbrány je naznačený na obr. 188.



$$\frac{U_2(p)}{U_1(p)} = H(p) = \frac{\sigma_2 - pC}{\sigma_2 + pC}$$

obr. 188

11.13. Vzťah medzi modulom a argumentom prenosovej funkcie.

Uvažujme dvojbránu s prenosovou funkciou $H(p)$ pre ktorú pre $p = j\omega$ platí:

$$H(p) \Big|_{p=j\omega} = H(j\omega) = |H(j\omega)| e^{j\psi(\omega)} \quad (11-104)$$

keď logaritmus $H(j\omega)$ potom platí:

$$\ln H(j\omega) = \ln |H(j\omega)| + j\psi(\omega) = \ln |H(j\omega)| + j\psi(\omega) \quad (11-105)$$

Uchádzajúc z tejto definície funkcie $|H(j\omega)|$ a $\psi(\omega)$, je možné ukázať, že prenosové funkcie s minimálnym argumentom platí vzťah:

$$\psi(\omega) = \frac{2\omega}{\pi} \int_0^{\infty} \frac{\ln |H(x)|}{x^2 - \omega^2} dx \quad (11-106)$$

Rovnicu (11-106) používajú odvodil Bode. Ako z nej vidieť, existuje ~~to~~ jednoznačný vzťah medzi ~~reálnou a imaginárnou~~ ako aj medzi modulom a fázou (argumentom) prenosovej funkcie dvojbrány s minimálnym argumentom. V prípade syntézy takejto dvojbrány, môže byť potom jednoznačne predpísaná len jedna z týchto dvoch veličín, t.j. buď $A \neq \psi$ alebo $FFCH$.